

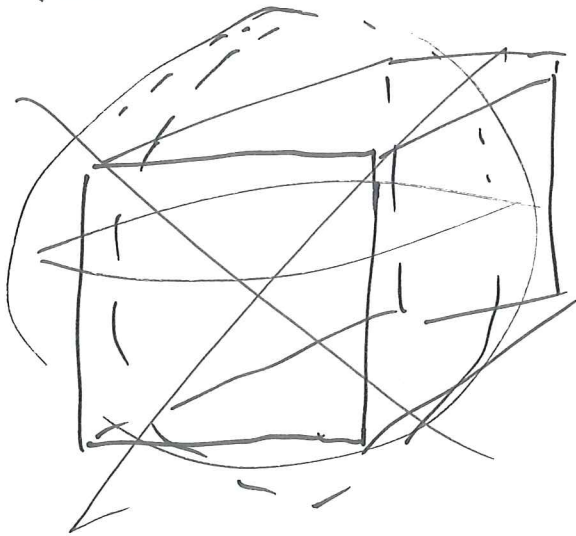
oblig 2  
oppg 10



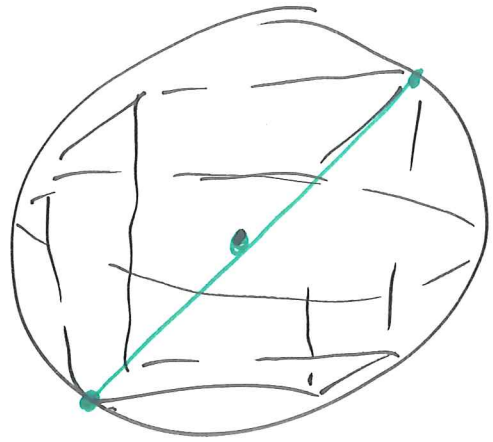
$$\frac{\text{Volum kule}}{\text{Volum kube}} = \frac{\pi}{6} \approx 0,5235\dots$$

① Kule radius  $r$   
Kuben har sidelengde  $2r$  (diametere)

$$\frac{V_{\text{kule}}}{V_{\text{kube}}} = \frac{\frac{4\pi}{3} \cdot r^3}{(2r)^3} = \frac{(\frac{4\pi}{3}) r^3}{8 \cdot r^3} = \frac{4\pi}{8 \cdot 3} = \frac{\pi}{2 \cdot 3} = \frac{\pi}{6}$$



Nytt  
forsøke:

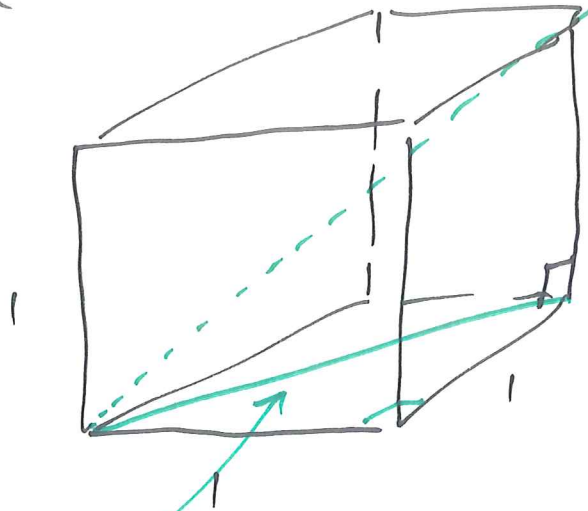


$$\frac{\text{Volum kule}}{\text{Volum kube}}$$


Diagonalen i kuben  
= diametere i kule.

# Diameter i en kubee

②



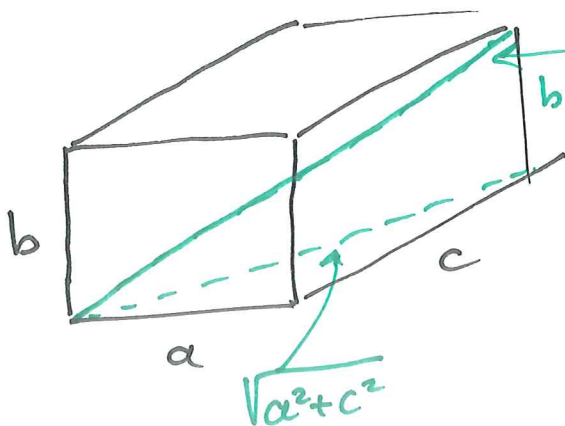
diameter til siden er  $\sqrt{1^2 + 1^2} = \sqrt{2}$



længden

$$\sqrt{(\sqrt{2})^2 + 1^2} = \sqrt{2+1} = \underline{\underline{\sqrt{3}}}$$

# boks (rett prisme)



Diagonalen  
har længde  
 $\sqrt{a^2 + b^2 + c^2}$   
(Benytter Pythagoras  
to gange)

Lengden til vektoren  $\vec{v} = [x, y, z]$  (14.3 i boken)

3) i  $\mathbb{R}^3$  er  $|\vec{v}| = \sqrt{x^2 + y^2 + z^2}$

Eks  $|[2, 5, 0]| = \sqrt{2^2 + 5^2 + 0^2} = \sqrt{29}$

$|[1, 1, 1]| = \sqrt{1^2 + 1^2 + 1^2} = \sqrt{3}$

$|[-3, 4, 5]| = \sqrt{(-3)^2 + 4^2 + 5^2} = \sqrt{25 + 25} = \sqrt{2 \cdot 25}$

oppgave Bestem  $t$  slik at

vektoren  $\vec{v} = t[\sqrt{2}, \sqrt{2}, \sqrt{5}]$  har lengde 12

$$|\vec{v}| = 12$$

$$|\vec{v}| = \sqrt{(\sqrt{2} \cdot t)^2 + (\sqrt{2} \cdot t)^2 + (\sqrt{5} \cdot t)^2} = 12$$

$$\sqrt{2t^2 + 2t^2 + 5t^2} = 12$$

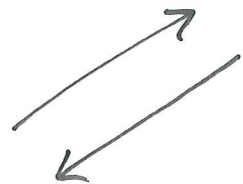
$$\sqrt{9t^2} = 12$$

$$3\sqrt{t^2} = 12$$

$$\sqrt{t^2} = 4$$

$$|t| = 4$$

$t = \underline{-4}$  eller  $t = \underline{4}$

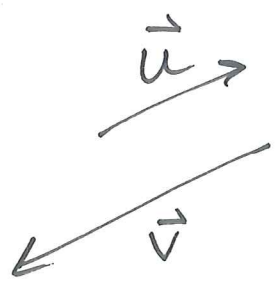


4

$\vec{u}, \vec{v}$  er parallelle vektorer hvis

- 1) minst én av dem er null-vektor
- 2) samme eller motsatt retning

Hvis  $\vec{u} \neq \vec{0}$ , da er  $\vec{u}, \vec{v}$  parallelle  $\Leftrightarrow \vec{v} = t \cdot \vec{u}$  for en skalar  $t$ .



Hvilke av vektorene  $[2, 3]$ ,  $[4, 5]$  og  $[-10, -15]$  er parallelle?

1. og 3. vektor er parallelle...

Bestem  $a$  slik at  $[1, 2]$  og  $[a, -7]$  blir parallelle.

$[1, 2] \neq 0$

parallelle  $\Leftrightarrow$

$t [1, 2] = [a, -7]$  for en  $t$

x-koordinat  
y- —

$t \cdot 1 = a$   
 $t \cdot 2 = -7$

tar forholdet

$\frac{1}{2} = \frac{a}{-7}$  så  $a = \frac{-7}{2} = \underline{\underline{-3,5}}$

Bestem  $b$  slik at

⑤  $[0, b]$  og  $[-1, 3]$  blir parallelle

$$t[-1, 3] = [0, b]$$

$$-t = 0$$

$$3t = b$$

så  $t=0$  og da  $b=0$



Når er  $[a+1, a]$  parallel til  $[4, -5]$ ?

$[4, -5] \neq 0$  parallelle  $\Leftrightarrow$

finnes en  $t$   $t[4, -5] = [a+1, a]$

$$4t = a+1$$

$$-5t = a$$

(Forholdet:  $\frac{4}{-5} = \frac{a+1}{a}$   $a \neq 0 \dots$ )

$$t = \frac{a+1}{4} \quad \text{og} \quad t = \frac{a}{-5}$$

Så  $\frac{a+1}{4} = \frac{a}{-5}$  ganger 20

$$5(a+1) = -4a$$

$$5a+5 = -4a$$

$$9a = -5$$

$$\text{så } a = \underline{\underline{-5/9}}$$

Når er  $[t^2, t]$  og  $[-3, 1]$  parallelle?

⑥

$$s[-3, 1] = [t^2, t]$$

$$-3s = t^2$$

$$s = t$$

(Forholdet gir:  $\frac{-3}{1} = \frac{t^2}{t}$  overse  
bare gyldig  
hår nevner  $t \neq 0$  )  
tilfellet  $t=0$ )

Alternativt  $s = t$  setter inn for  $s$  i  
 $-3s = t^2$

$$\text{gir } -3t = t^2 \Leftrightarrow t^2 + 3t = t(t+3) = 0$$

$t = \underline{0}$  og  $t = \underline{-3}$ .

Hvilke av vektorene  $[3, -2, 4]$ ,  $[-21, 14, -28]$   
 $[1, 2, 3]$  er parallelle?

De to første vektorene er parallelle  
 $-7 \cdot \text{første vektor} = \text{andre vektor}$ .



Ligger punktene  $A(1, 2, 3)$

$B(2, 1, 5)$

og  $C(-2, 5, -3)$

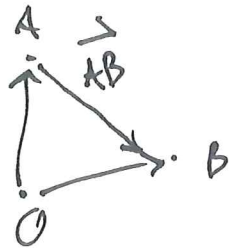
på en linje?

(7)



Punkterne ligger på en linje  $\Leftrightarrow \vec{AB}$  og  $\vec{BC}$  er parallelle

$$\begin{aligned}\vec{AB} &= \vec{OB} - \vec{OA} \\ &= [2, 1, 5] - [1, 2, 3] \\ &= [1, -1, 2].\end{aligned}$$



$$\begin{aligned}\vec{BC} &= \vec{OC} - \vec{OB} \\ &= [-2, 5, -3] - [2, 1, 5] = [-2-2, 5-1, -3-5] \\ &= [-4, 4, -8].\end{aligned}$$

Viser:  $\vec{BC} = -4\vec{AB}$   
Så de tre punktene ligger på en linje.

12.9

Resultat:

$\vec{a}, \vec{b}$  ikke parallelle vektorer (så  $\neq \vec{0}$ )

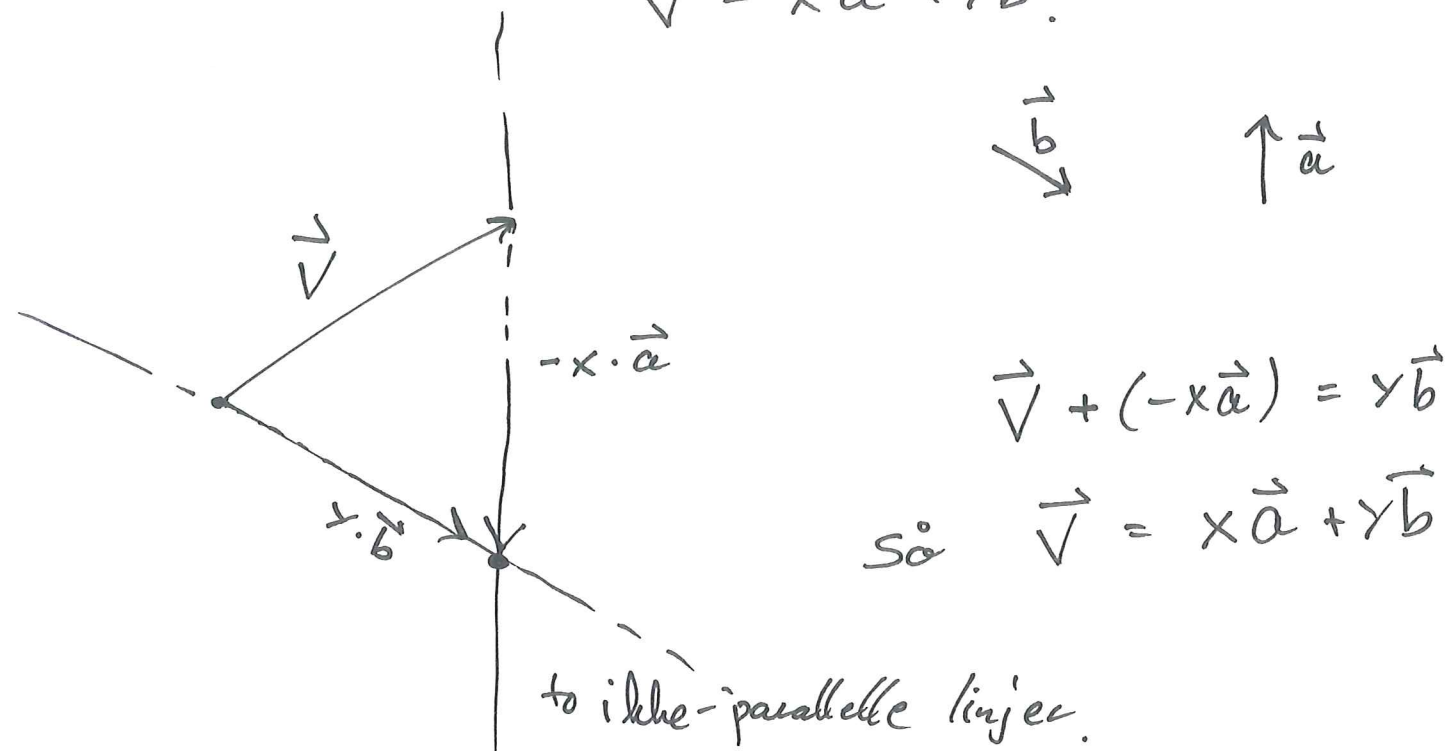
Alle vektorer i  $\mathbb{R}^2$  er på formen

$$x\vec{a} + y\vec{b} \quad \text{for entydige } x \text{ og } y$$

(8)

DVS. For alle  $\vec{v}$  i  $\mathbb{R}^2$  så finnes det  
 presis én  $x$  og én  $y$  slik at

$$\vec{v} = x\vec{a} + y\vec{b}.$$





La  $\vec{a}$  og  $\vec{b}$  være ikke-parallele vektorer i  $\mathbb{R}^2$

Er noen av vektorene

$$\vec{V}_1 = 2\vec{a} - 10\vec{b}, \quad \vec{V}_2 = 2\vec{a} + 10\vec{b}, \quad \vec{V}_3 = -3\vec{a} + 15\vec{b}$$

parallele?

(9)  $t\vec{V}_1 = \vec{V}_2 \quad (\vec{V}_1 \neq \vec{0})$

$$t(2\vec{a} - 10\vec{b}) = 2\vec{a} + 10\vec{b}$$

$$2t\vec{a} - (10t)\vec{b} = 2\vec{a} + 10\vec{b}$$

$$\underbrace{(2t-2)}_0 \vec{a} = \underbrace{(10+10t)}_0 \vec{b}$$

(ellers ville  $\vec{a}$  og  $\vec{b}$  vært parallele)

$$2t = 2, \quad t = 1 \quad \text{og} \quad 10 + 10t = 0$$

$t = -1$   
ikke mulig

$$\frac{-3}{2} \cdot \vec{V}_1 = \frac{-3}{2} (2\vec{a} - 10\vec{b}) = -3\vec{a} + 15\vec{b} = \vec{V}_3$$

Så  $\vec{V}_1$  og  $\vec{V}_3$  er parallele.

$\vec{a}, \vec{b}$  ikke-parallele

$$\vec{V}_1 = -3\vec{a} + 5\vec{b}$$

$$\vec{V}_2 = \vec{a} + 7\vec{b}$$

Bestem  $z$  slik at  $\vec{V}_1$  og  $\vec{V}_2$  blir parallele.

$$s \vec{v}_2 = \vec{v}_1$$

$$s(\vec{a} + t\vec{b}) =$$

$$s\vec{a} + s \cdot t \cdot \vec{b} = -3\vec{a} + 5\vec{b}$$

(10)

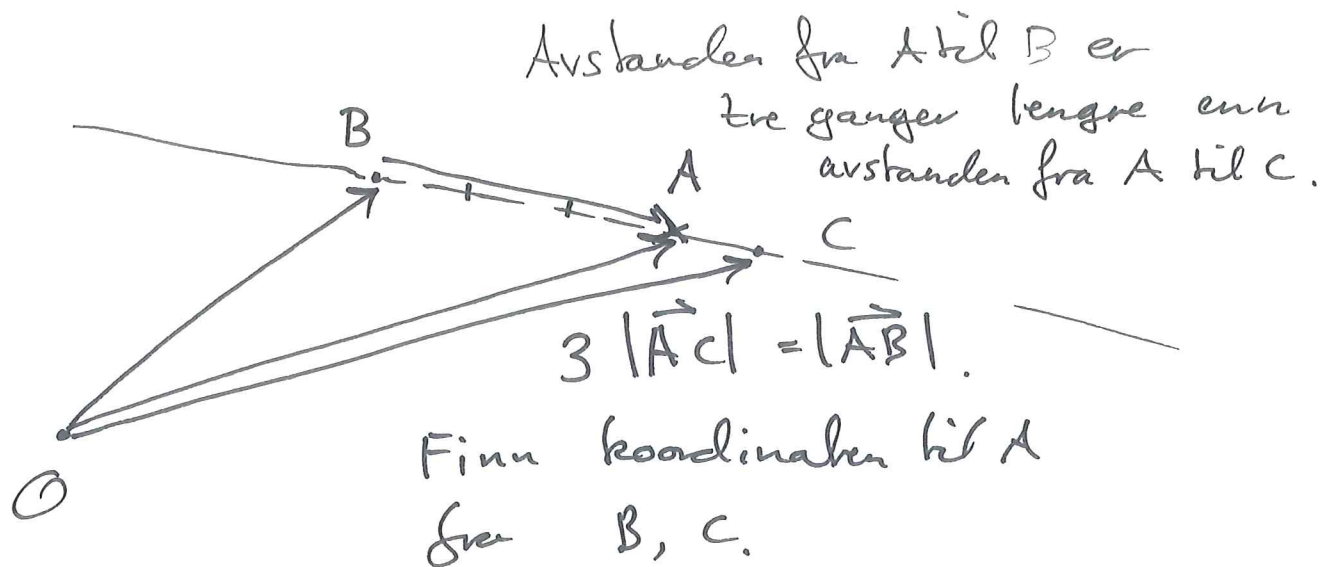
$$s = -3$$

$$s \cdot t = 5$$

$$-3 \cdot t = 5$$

$$t = 5/3$$

$\vec{v}_1$  og  $\vec{v}_2$  er parallelle når  $t = -5/3$   
( $\vec{v}_1 \parallel \vec{v}_2$ )



$$\vec{OA} = \vec{OB} + \vec{BA}$$

$\vec{BA}$  er parallell til  $\vec{BC}$

lengden er  $\frac{3}{4}$  av lengden til  $\vec{BC}$ .

$$\left[ \begin{aligned} \text{Lengden } BC &= |\vec{AC}| + |\vec{AB}| = |\vec{AC}| + 3|\vec{AC}| \\ &= 4|\vec{AC}| \end{aligned} \right]$$

$$|\vec{AC}| = \frac{1}{4} |\vec{BC}|$$

$$|\vec{BA}| = 3 \cdot |\vec{AC}| = \frac{3}{4} |\vec{BC}|.$$

$\vec{BA}$  og  $\vec{BC}$  har samme retning.

$$\vec{BA} = \frac{3}{4} \cdot \vec{BC}$$

$$\vec{OA} = \vec{OB} + \vec{BA} = \vec{OB} + \frac{3}{4} \cdot \vec{BC}$$