

Oppgave 1

$$a) \left(\frac{a^2}{b}\right)^{-4} \cdot \left(\frac{a\sqrt{a}}{b^3}\right)^2 = \left(\frac{b}{a^2}\right)^4 \cdot \left(\frac{a^{\frac{3}{2}}}{b^3}\right)^2 = \frac{b^4}{a^8} \cdot \frac{a^3}{b^6} = \frac{a^3 b^4}{a^8 b^6} = a^{3-8} b^{4-6} = a^{-5} b^{-2} = \underline{\underline{\frac{1}{a^5 b^2}}}$$

$$b) 4 \sin x - \sqrt{6} = \sqrt{2} \quad \text{når } x \in [0^\circ, 360^\circ)$$

$$4 \sin x = \sqrt{2} + \sqrt{6} \quad | :4$$

$$\sin x = \frac{\sqrt{2} + \sqrt{6}}{4}$$

$$x = \sin^{-1}\left(\frac{\sqrt{2} + \sqrt{6}}{4}\right) = 75^\circ$$

Løsninger

$$x = 75^\circ + 360^\circ \cdot n \quad \text{eller} \quad x = (180^\circ - 75^\circ) + 360^\circ \cdot n$$

Siden $x \in [0^\circ, 360^\circ)$, blir løsningene:

$$\underline{\underline{x = 75^\circ \quad \text{eller} \quad x = 105^\circ}}$$

c)

$$3(\ln x)^2 - \ln x^5 - 2 = 0$$

$$3(\ln x)^2 - 5 \ln x - 2 = 0$$

Vi setter $u = \ln x$, og får

$$3u^2 - 5u - 2 = 0$$

$$3\left(u + \frac{1}{3}\right)(u - 2) = 0 \quad (\text{fra abc-formel})$$

$$u = -\frac{1}{3} \quad \text{eller} \quad u = 2$$

$$\ln x = -\frac{1}{3} \quad \text{eller} \quad \ln x = 2$$

Løsning:

$$\boxed{\begin{array}{l} x = e^{-\frac{1}{3}} \\ x = e^2 \end{array}}$$

Husk! vi må ha $x > 0$
for at logaritmen
skal være definert

d) $\sqrt{x+2} - 2x = 1$ $x+2 \geq 0$
 $x \geq -2$

$$\sqrt{x+2} = 2x+1 \quad |^2$$

$$x+2 = 4x^2+4x+1$$

$$4x^2+3x-1=0$$

fra abc-formelen

$$x = \frac{1}{4} \text{ eller } x = -1$$

Prøve: For $x = \frac{1}{4}$

$$\text{V.S. } \sqrt{\frac{1}{4}+2} - 2 \cdot \frac{1}{4} = \sqrt{\frac{9}{4}} - \frac{1}{2} = \frac{3}{2} - \frac{1}{2} = 1 \quad \left. \vphantom{\sqrt{\frac{9}{4}}} \right\} \text{ok.}$$

V.S. 1

For $x = -1$

$$\text{V.S. } \sqrt{-1+2} - 2 \cdot (-1) = \sqrt{1} + 2 = 3$$

H.S. 1

VS \neq H.S.

Løsning: $x = \frac{1}{4}$

e) $f(x) = x^2 \cdot \cos 2x$

$$f'(x) = (x^2)' \cdot \cos 2x + x^2 \cdot (\cos 2x)' =$$

$$= 2x \cos 2x + x^2 \cdot (-\sin 2x) \cdot 2 =$$

$$= \underline{\underline{2x \cos 2x - 2x^2 \sin 2x}}$$

Kan også skrives

$$\underline{\underline{2x(\cos 2x - x \sin 2x)}}$$

f)

$$\int \frac{2x}{x^2-1} dx = \int \frac{2x'}{u} \cdot \frac{du}{2x} = \int \frac{1}{u} du = \ln |u| + C = \underline{\underline{\ln |x^2-1| + C}}$$

$x \neq \pm 1$

$$u = x^2 - 1$$

$$\frac{du}{dx} = 2x \Rightarrow dx = \frac{du}{2x}$$

g)

$$0 < x - 1 \leq x^2 - 7$$

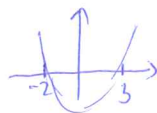
$$\Updownarrow$$

$$x - 1 > 0 \quad \text{og} \quad x^2 - 7 \geq x - 1$$

$$x > 1$$

$$x^2 - x - 6 \geq 0$$

$$(x + 2)(x - 3) \geq 0$$



$$(x + 2)(x - 3) \geq 0$$

for $x \leq -2$ eller $x \geq 3$

Hush! Begge ulikhetene skal være oppfylt.

Løsning: $x \geq 3$

h)

$$f(x) = \frac{1}{2x}, \quad x \in [1, 4]$$

$$V = \pi \int_a^b (f(x))^2 dx$$

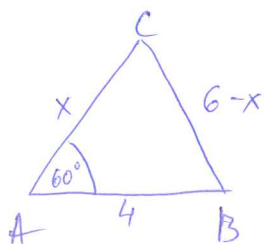
$$V = \pi \int_1^4 \left(\frac{1}{2x}\right)^2 dx$$

$$\pi \int \frac{1}{4x^2} dx = \frac{\pi}{4} \int \frac{1}{x^2} dx = -\frac{\pi}{4} \left[\frac{1}{x}\right] + C$$

$$\pi \int_1^4 \left(\frac{1}{2x}\right)^2 dx = -\frac{\pi}{4} \left[\frac{1}{x}\right]_1^4 = -\frac{\pi}{4} \left(\frac{1}{4} - 1\right) = -\frac{\pi}{4} \cdot \left(-\frac{3}{4}\right) = \frac{3\pi}{16} \approx 0,59$$

Berevning [dm^3]: $V \approx 0,59 \text{ dm}^3 = \underline{\underline{0,59 \text{ l}}}$

i)



$$AC = ?$$

$$\angle B = ?$$

For å finne lengden AC kan vi bruke cosinussetningene.

Vi setter $a = 6 - x$, $b = x$ og $c = 4$.

$$\text{Da er } a^2 = b^2 + c^2 - 2bc \cos \frac{\pi}{3}$$

$$\text{Vi finner da at } (6-x)^2 = x^2 + 4^2 - 8x \cos \frac{\pi}{3}$$

$$36 - 12x + x^2 = x^2 + 16 - 4x$$

$$8x = 20 \Rightarrow x = \frac{5}{2} \Rightarrow a = \frac{7}{2}$$

$$\underline{\underline{AC = \frac{5}{2}}}$$

Å finne $\angle B$:

$$b^2 = a^2 + c^2 - 2ac \cos \angle B$$

$$\cos \angle B = \frac{a^2 + c^2 - b^2}{2ac}$$

$$\cos \angle B = \frac{\frac{49}{4} + 16 - \frac{25}{4}}{2 \cdot \frac{7}{2} \cdot 4} = \frac{11}{4}$$

$$\angle B = \cos^{-1}\left(\frac{11}{4}\right) \approx \underline{\underline{38,21^\circ}}$$

Oppgave 2

$$\left. \begin{array}{l} a) \ A(0,0,0) \\ \quad B(3,1,0) \\ \quad C(2,4,0) \end{array} \right\} \Rightarrow A, B, C \in xy\text{-planet.}$$

$$\vec{CA} = [0-2, 0-4, 0-0] = [-2, -4, 0]$$

$$\vec{CB} = [3-2, 1-4, 0-0] = [1, -3, 0]$$

$$|\vec{CA}| = \sqrt{(-2)^2 + (-4)^2 + 0^2} = \sqrt{20} = 2\sqrt{5}$$

$$|\vec{CB}| = \sqrt{1^2 + (-3)^2 + 0^2} = \sqrt{10}$$

$$\vec{CA} \cdot \vec{CB} = [-2, -4, 0] \cdot [1, -3, 0] = 10$$

$$\cos \angle C = \frac{\vec{CA} \cdot \vec{CB}}{|\vec{CA}| \cdot |\vec{CB}|} = \frac{10}{2\sqrt{5} \cdot \sqrt{10}} = \frac{\sqrt{10}}{2\sqrt{5}} = \frac{\sqrt{2}}{2} \Rightarrow \angle C = \underline{\underline{45^\circ}}$$

b) Punktene A, B og C skal utgjøre tre av hjørnene i et parallelogram.

Vi skal vise at $D(-3, 1, 0)$ er det siste hjørnet.

Vi må vise at $\vec{AB} = \vec{DC}$ og $\vec{AD} = \vec{BC}$

$$\left. \begin{aligned} \vec{AB} &= [3, 1, 0] \\ \vec{DC} &= [3, 1, 0] \end{aligned} \right\} \Rightarrow \vec{AB} = \vec{DC}$$

$$\left. \begin{aligned} \vec{AD} &= [-1, 3, 0] \\ \vec{BC} &= [-1, 3, 0] \end{aligned} \right\} \Rightarrow \vec{AD} = \vec{BC}$$

To og to sider i ABCD er parvis parallelle \Rightarrow ABCD - parallelogram.

c) Først skal vi vise at grunnflaten er kvadratisk

$$\left. \begin{aligned} \vec{AB} &= [3, 1, 0] \Rightarrow |\vec{AB}| = \sqrt{10} \\ \vec{BC} &= [-1, 3, 0] \Rightarrow |\vec{BC}| = \sqrt{10} \end{aligned} \right\} \text{ AB og BC er like lange.}$$

Følgelig har vi at alle sidene er like lange
for det vi viste i (2b).

$$\vec{AB} \cdot \vec{BC} = [3, 1, 0] \cdot [-1, 3, 0] = 0.$$

Vinkelen mellom AB og BC er 90° .

Resten av vinklene i parallelogrammet oppe er 90°
siden to og to sider er parvis parallelle.

Det vil si at ABCD er kvadrat med sidelengde $\sqrt{10}$.

For å vise at pyramiden er rett, finnes vi først midtpunktet M i ABCD.

$$\vec{AM} = \frac{1}{2} (\vec{AB} + \vec{BC}) = \frac{1}{2} ([3, 1, 0] + [-1, 3, 0]) = [1, 2, 0].$$

Vi ser at dette er x- og y-koordinatene til T.

$$\text{Vi får at } \vec{MT} = [(1, 2, 5) - (1, 2, 0)] = [0, 0, 5]$$

$$\text{og } \vec{AM} \cdot \vec{MT} = [1, 2, 0] \cdot [0, 0, 5] = 0 \Rightarrow \vec{MT} \perp \vec{AM}$$

Det vil si at pyramiden er rett med høyde $h = 5$
og grunnflate $G = \sqrt{10} \cdot \sqrt{10} = 10$

d)
$$V = \frac{G \cdot h}{3}$$

$$V = \frac{10 \cdot 5}{3} = \frac{50}{3} \approx 16,67$$

e)
$$\vec{AB} = [3, 1, 0]$$

$$\vec{AT} = [1, 2, 5]$$

$$A_{\Delta} = \frac{1}{2} |\vec{AB} \times \vec{AT}|$$

$$\vec{AB} \times \vec{AT} = \begin{vmatrix} \vec{e}_1 & \vec{e}_2 & \vec{e}_3 \\ 3 & 1 & 0 \\ 1 & 2 & 5 \end{vmatrix} = [5, -15, 5]$$

$$A_{\Delta} = \frac{1}{2} |\vec{AB} \times \vec{AT}| = \frac{1}{2} (\sqrt{25+225+25}) = \frac{1}{2} \sqrt{275} = \frac{5\sqrt{11}}{2}$$

f) \vec{AB} og $\vec{AT} \in \alpha \Rightarrow \vec{AB} \times \vec{AT}$ står normalt på begge disse vektorene.

$$\vec{AB} \times \vec{AT} = [5, -15, 5] = 5 [1, -3, 1]$$

Vi kan bruke $\vec{n} = [1, -3, 1]$ som normalvektor.

Likningen for et plan er $ax + by + cz + d = 0$
 Siden $A(0,0,0) \in \alpha$, er d lik 0.

Vi får $x - 3y + z = 0$

Likningen for α : $x - 3y + z = 0$

Oppgave 3

a) $f(x) = \frac{2x^2}{x^2-4}$

$x^2-4 \neq 0 \Rightarrow (x+2)(x-2) \neq 0 \Rightarrow \underline{\underline{D_f = \mathbb{R} - \{-2, 2\}}}$

$f(x) = 0 \Leftrightarrow 2x^2 = 0$

$f(x)$ har nullpunkt for $x=0$

b) $f(x)$ er ikke definert i $x=-2$ og $x=2$. Dette er derfor kandidater til vertikale asymptoter.

$x = -2$

Telleren $2x^2 = 2 \cdot (-2)^2 = 8$

$f(x) \rightarrow \pm \infty$ nær $x \rightarrow -2$

$x = 2$

Telleren $2x^2 = 2 \cdot 2^2 = 8$

$f(x) \rightarrow \pm \infty$ nær $x \rightarrow 2$

\Rightarrow $x = -2$
og $x = 2$ er vertikale asymptoter

Har $f(x)$ horisontale asymptoter?

$\lim_{x \rightarrow \pm \infty} \frac{2x^2}{x^2-4} = \lim_{x \rightarrow \pm \infty} \frac{\frac{2}{x^2} \rightarrow 2}{\frac{x^2}{x^2} - \frac{4}{x^2} \rightarrow 1} = 2$

$y = 2$ er en horisontal asymptote.

c) $f(x) = \frac{2x^2}{x^2-4}$

$f'(x) = \frac{(2x^2)' \cdot (x^2-4) - 2x^2 \cdot (x^2-4)'}{(x^2-4)^2} = \frac{4x(x^2-4) - 2x^2 \cdot 2x}{(x^2-4)^2} =$

$= \frac{4x^3 - 16x - 4x^3}{(x^2-4)^2} = \frac{-16x}{(x^2-4)^2}$

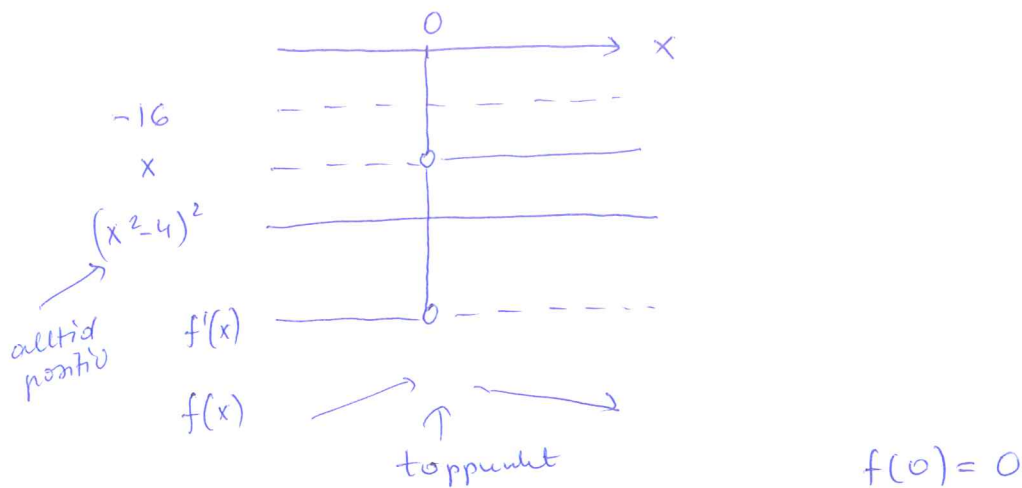
d) Å finne topp- eller bunnpunkter for $f(x)$.

Vi må løse $f'(x) = 0$

Fra (c) har vi

$f'(x) = \frac{-16x}{(x^2-4)^2}$

$$f'(x) = 0 \Leftrightarrow -16x = 0 \Leftrightarrow x = 0.$$



Funksjonen har toppunktet $(0, 0)$

e) Vi skal finne eventuelle vendepunkter:

$$\begin{aligned} f''(x) &= \frac{(-16x)'(x^2-4)^2 - (-16x)((x^2-4)^2)'}{(x^2-4)^4} = \\ &= \frac{-16(x^2-4)^2 + 16x \cdot 2(x^2-4)(2x)}{(x^2-4)^4} \\ &= \frac{-16(x^2-4) + 64x^2}{(x^2-4)^3} = \frac{-16x^2 + 64 + 64x^2}{(x^2-4)^3} = \frac{48x^2 + 64}{(x^2-4)^3} \end{aligned}$$

$$f''(x) = 0 \Leftrightarrow 48x^2 + 64 = 0$$

↑ ingen nullpunkter.

Funksjonen har ingen vendepunkter.

Oppgave 4

Tre lokale fotballklubber:

K_A - 250 medlemmer

K_B - 100 medlemmer

K_C - 50 medlemmer

det skal trekkes ut
2 spillere.

a)

Sannsynligheten for at første spiller kommer fra K_A

$$P_1(K_A) = \frac{250}{400} = \frac{5}{8}$$

Sannsynligheten for at den andre spiller kommer fra K_A

$$P_2(K_A) = \frac{249}{399} = \frac{83}{133}$$

Sannsynligheten for at begge kommer fra K_A

$$P_1(K_A) \cdot P_2(K_A) = \frac{5}{8} \cdot \frac{83}{133} = \frac{415}{1064} \approx 0,39 \quad (\approx 39\%)$$

b)

Vi bruker notasjonen $K_A K_B$ hvis første spiller er fra K_A og andre spiller er fra K_B , og tilsvarende for andre uttrekk.

Vi har 4 muligheter for at en og bare en spiller kommer fra K_A .

Disse er:

$K_A K_B$, $K_B K_A$, $K_A K_C$ og $K_C K_A$.

Vi finner sannsynligheten for disse 4 mulighetene og deretter summerer disse.

$$P(K_A K_B) = \frac{250}{400} \cdot \frac{100}{399} = \frac{125}{798}$$

$$P(K_B K_A) = \frac{100}{400} \cdot \frac{250}{399} = \frac{125}{798}$$

$$P(K_A K_C) = \frac{250}{400} \cdot \frac{50}{399} = \frac{125}{1596}$$

$$P(K_C K_A) = \frac{50}{400} \cdot \frac{250}{399} = \frac{125}{1596}$$

$$P(K_A K_B) + P(K_B K_A) + P(K_A K_C) + P(K_C K_A) =$$

$$= \frac{125}{798} + \frac{125}{798} + \frac{125}{1596} + \frac{125}{1596} \approx 0,4699 \approx 47,0\%$$

Oppgave 5

a) $V = G \cdot h = \pi r^2 h$

$$\pi r^2 h = 800 \text{ [m}^3\text{]}$$

$$h = \frac{800}{\pi r^2} \text{ [m]}$$

b) $O = \pi r^2 + \pi r^2 + 2\pi r h = 2\pi r^2 + 2\pi r h$

Fra (a) har vi $h = \frac{800}{\pi r^2}$

$$O = 2\pi r^2 + 2\pi r \frac{800}{\pi r^2} = 2\pi r^2 + \frac{1600}{r}$$

c) Vi skal minimalisere overflaten O , og finne r og h i dette tilfellet.

$$O = 2\pi r^2 + \frac{1600}{r} \Rightarrow O(r) = 2\pi r^2 + \frac{1600}{r}$$

$$O'(r) = 4\pi r - \frac{1600}{r^2}$$

Vi setter $O'(r) = 0$ og løser med hensyn på r .

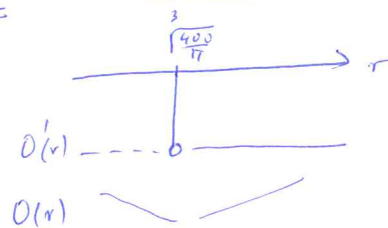
$$4\pi r - \frac{1600}{r^2} = 0 \quad | \cdot r^2$$

$$4\pi r^3 - 1600 = 0$$

$$r^3 = \frac{400}{\pi} \Rightarrow r = \sqrt[3]{\frac{400}{\pi}} \approx \frac{5.03}{1}$$

For å finne $h(r)$, brukes vi uttrykket fra (a)

$$h = \frac{800}{\pi r^2} = \frac{800}{\pi \left(\sqrt[3]{\frac{400}{\pi}}\right)^2} = \frac{4 \sqrt[3]{\frac{50}{\pi}}}{1} \approx 10,06$$



Oppgave 6

(11)

Gitt en uendelig geometrisk rekke

$$S = \sum_{i=1}^{\infty} a_i$$

$$a_2 = \frac{1}{2}, \quad a_5 = \frac{1}{16}.$$

a) Vi bestemmer kvotienten først.

Siden vi nå vet a_2 og a_5 får vi at $a_5 = k a_4 = k^2 a_3 = k^3 a_2$

$$a_5 = k^3 a_2. \quad \text{Dette gir}$$

$$\frac{k^3}{2} = \frac{1}{16} \Rightarrow k^3 = \frac{1}{8} \Rightarrow \underline{\underline{k = \frac{1}{2}}}.$$

$$a_2 = k a_1$$

$$\frac{1}{2} = \frac{1}{2} a_1 \Rightarrow \underline{\underline{a_1 = 1}}.$$

$$\text{Altså er } S = \sum_{i=1}^{\infty} a_i = \sum_{n=0}^{\infty} k^n = \sum_{n=0}^{\infty} \frac{1}{2^n}$$

Siden $k = \frac{1}{2} \Rightarrow 0 < k < 1$, er rekken konvergent.

I tillegg er rekken konvergent med sum

$$S = \sum_{n=0}^{\infty} \frac{1}{2^n} = \frac{1}{1 - \frac{1}{2}} = \frac{1}{\frac{1}{2}} = 2$$

b) Vi setter nå $S_n = \sum_{i=1}^n a_i$

Vi skal bestemme n slik at $S - S_n < 0,0001$.

Vi bruker formel for sum av en endelig geometrisk rekke

$$S_n = \frac{k^n - 1}{k - 1} \quad \text{og setter inn } k = \frac{1}{2}$$

$$S_n = \frac{(\frac{1}{2})^n - 1}{\frac{1}{2} - 1} = 2 - \frac{2}{2^n} = 2(1 - \frac{1}{2^n})$$

$$S - S_n = 2 - 2(1 - \frac{1}{2^n}) = 2 \cdot \frac{1}{2^n}$$

Da får vi

$$2 \cdot \frac{1}{2^n} < 0,0001 \Rightarrow \frac{1}{2^n} < 0,00005$$

Vi tar nå logaritmen på begge sider

(logaritmen er strengt voksende, så det er ok med ulikhetstegnet)

$$\ln \frac{1}{2^n} < \ln(0,00005)$$

$$\ln \left(\frac{1}{2}\right)^n < \ln(0,00005)$$

$$n \ln\left(\frac{1}{2}\right) < \ln(0,00005) \quad /: \ln\left(\frac{1}{2}\right)$$

Logaritmen til tall mellom 0 og 1 er negativ, så vi må snu ulikhetstegnet når vi deler med $\ln\left(\frac{1}{2}\right)$

Vi får

$$n > \frac{\ln(0,00005)}{\ln \frac{1}{2}} \approx 14,29$$

Siden n skal være et helt tall må vi velge

$$\underline{\underline{n \geq 15}} \text{ for at } S - S_n < 0,0001$$