

①

Lineær algebra

19 mai 2016

Lineære transformasjoner

$$T: \mathbb{R}^2 \rightarrow \mathbb{R}^2$$

$$T(\vec{v}_1 + \vec{v}_2) = T(\vec{v}_1) + T(\vec{v}_2)$$

$$T(k\vec{v}) = kT(\vec{v}) \quad k \text{ skalar}$$

standardmatrisen er en matrise M

s.a. den lin. trans. T er gitt ved matrise-
multiplikasjon

$$T(\vec{v}) = M \cdot \vec{v}$$

Gitt $T(\vec{v}_1) = \vec{w}_1$ og $T(\vec{v}_2) = \vec{w}_2$
 $M \cdot \vec{v}_1$ $M \vec{v}_2$

$$M [\vec{v}_1, \vec{v}_2] = [\vec{w}_1, \vec{w}_2]$$

$\hat{=}$ invertierbar \Rightarrow

$$M = \underline{[\vec{w}_1, \vec{w}_2] [\vec{v}_1, \vec{v}_2]^{-1}}$$

$$\textcircled{2} \quad M = [\vec{u}_1 \quad \vec{u}_2], \quad \text{La } \vec{v} = \begin{bmatrix} a \\ b \end{bmatrix}$$

$$M\vec{v} = [\vec{u}_1 \quad \vec{u}_2] \begin{bmatrix} a \\ b \end{bmatrix} = a\vec{u}_1 + b\vec{u}_2$$

$$\text{så} \quad \vec{u}_1 = M \begin{bmatrix} 1 \\ 0 \end{bmatrix} = (1 \cdot \vec{u}_1 + 0 \cdot \vec{u}_2 = \vec{u}_1)$$

$$\vec{u}_1 = T(\vec{e}_1)$$

$$\text{tilsvarende} \quad T(\vec{e}_2) = \vec{u}_2.$$

$$M = \underline{[T(\vec{e}_1), T(\vec{e}_2)]}$$

Eks. Antag T er en lin. trans. slik at

$$T \begin{bmatrix} 1 \\ 1 \end{bmatrix} = \begin{bmatrix} 3 \\ 4 \end{bmatrix} \quad \text{og} \quad T \begin{bmatrix} 1 \\ 0 \end{bmatrix} = T(\vec{e}_1) = \begin{bmatrix} 4 \\ 2 \end{bmatrix}$$

Bestem standardmatrisen til T

$$\vec{e}_2 = \begin{bmatrix} 0 \\ 1 \end{bmatrix} = \begin{bmatrix} 1 \\ 1 \end{bmatrix} - \begin{bmatrix} 1 \\ 0 \end{bmatrix}$$

$$T(\vec{e}_2) = T\left(\begin{bmatrix} 1 \\ 1 \end{bmatrix} - \begin{bmatrix} 1 \\ 0 \end{bmatrix}\right) = T \begin{bmatrix} 1 \\ 1 \end{bmatrix} - T \begin{bmatrix} 1 \\ 0 \end{bmatrix}$$

$$= \begin{bmatrix} 3 \\ 4 \end{bmatrix} - \begin{bmatrix} 4 \\ 2 \end{bmatrix} = \begin{bmatrix} -1 \\ 2 \end{bmatrix}$$

$$\text{Standardmatrisen er} \quad M = \begin{bmatrix} 4 & -1 \\ 2 & 2 \end{bmatrix}.$$

$$\det(M) = 4 \cdot 2 - (-1 \cdot 2) = \underline{10}$$

Bestem vektorene \vec{v} slik at

$$T(\vec{v}) = \begin{bmatrix} 1 \\ -1 \end{bmatrix}$$

$$M \cdot \vec{v} = \begin{bmatrix} 1 \\ -1 \end{bmatrix} \quad \text{hvor } M \text{ er standard-} \\ \text{matrisen}$$

$$\begin{bmatrix} 4 & -1 \\ 2 & 2 \end{bmatrix} \cdot \vec{v} = \begin{bmatrix} 1 \\ -1 \end{bmatrix}$$

ganger med $\begin{bmatrix} 4 & -1 \\ 2 & 2 \end{bmatrix}^{-1}$ fra venstre på begge side

$$\vec{v} = \begin{bmatrix} 4 & -1 \\ 2 & 2 \end{bmatrix}^{-1} \begin{bmatrix} 1 \\ -1 \end{bmatrix}$$

$$= \frac{1}{10} \begin{bmatrix} 2 & 1 \\ -2 & 4 \end{bmatrix} \begin{bmatrix} 1 \\ -1 \end{bmatrix}$$

(det)

$$\vec{v} = \frac{1}{10} \begin{bmatrix} 2 & -1 \\ -2 & -4 \end{bmatrix} = \underline{\underline{\frac{1}{10} \begin{bmatrix} 1 \\ -6 \end{bmatrix}}}$$

(sjekker svaret:

$$\begin{bmatrix} 4 & -1 \\ 2 & 2 \end{bmatrix} \cdot \frac{1}{10} \begin{bmatrix} 1 \\ -6 \end{bmatrix} = \frac{1}{10} \begin{bmatrix} 4 + 6 \\ 2 - 12 \end{bmatrix} = \begin{bmatrix} 1 \\ -1 \end{bmatrix}_v)$$

4

Implisitt derivasjon

- Hva er radius og senter til sirkelen

$$x^2 + 2x + y^2 - 6y = 0$$

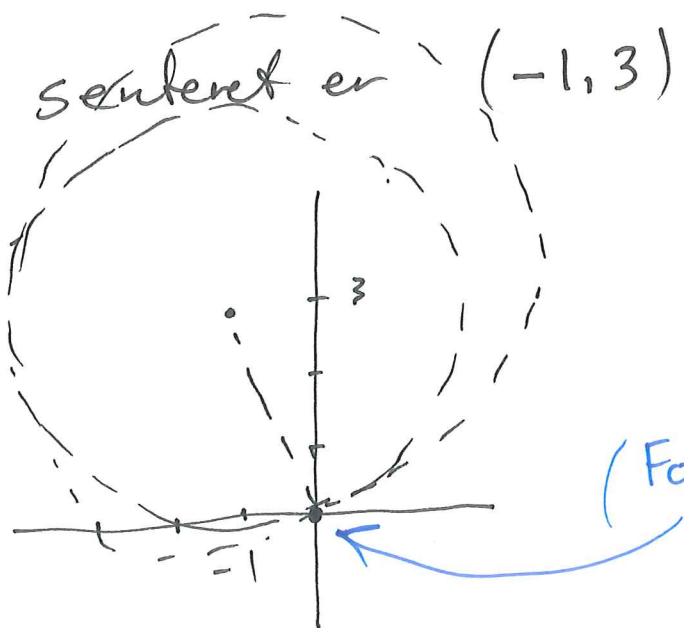
- Bestem stignings tallet til tangenten i punktet $(0,0)$ på sirkelen.

$$\underbrace{(x+1)^2 - 1}_{x^2 + 2x} + \underbrace{(y-3)^2 - (-3)^2}_{y^2 - 6y} = 0$$

så likningen er ekvivalent til

$$(x+1)^2 + (y-3)^2 = 10$$

senteret er $(-1, 3)$ og radius er $\sqrt{10}$



(Forventer y' mellom 0 og 1...)

5

$$x^2 + 2x + y_{(x)}^2 - 6y_{(x)} = 0$$

$$\frac{d}{dx} (x^2 + 2x + y_{(x)}^2 - 6y_{(x)}) = \frac{d}{dx} 0 = 0$$

$$2x + 2 + 2y_{(x)} \cdot \frac{dy}{dx} - 6 \frac{dy}{dx} = 0$$

$$2(x+1) + \frac{dy}{dx} (2 \cdot y - 6) = 0$$

$$2(x+1) = 2(3-y) \frac{dy}{dx}$$

$$\underline{\underline{\frac{dy}{dx} = \frac{x+1}{3-y}}}$$

I (0,0) er stigningstallet til tangenten

lik $\frac{1}{3}$

Kabla hastigheter

⑥

En ballong blåses opp slik at

$\frac{dV}{dt}$ er konstant lik 0.1 L/sek.

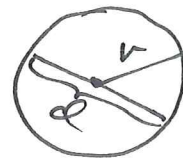
Hvor raskt endrer diameteren seg når den 10 cm?

(overflaten til en kule med radius r er $4\pi r^2$)

d diameter
 r radius

$$\overbrace{d = 2r}^{\text{diameter} = 2 \cdot \text{radius}}$$

Hva er $\frac{dr}{dt}$ når $r = 5 \text{ cm}$?



$$\frac{dV(r(t))}{dt} = 0.1 \text{ L/sek} = 0.1 \text{ dm}^3/\text{sek.}$$

$$= \frac{dV}{dr} \cdot \frac{dr}{dt}$$

Så $\frac{dr}{dt} = \frac{dV/dt}{dV/dr}$

$$\frac{dV}{dr} = \text{overflate-areal} = 4\pi r^2$$

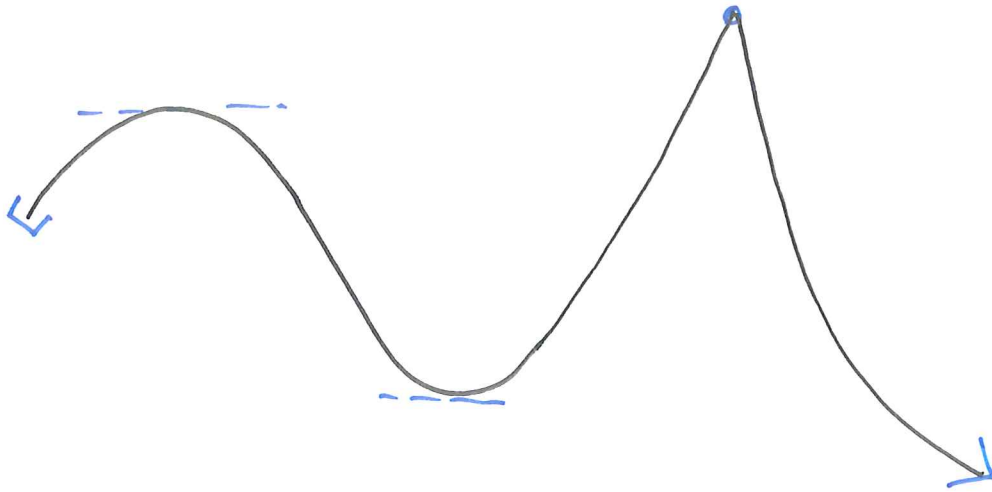
$$\frac{dr}{dt} = \frac{0.1 \text{ dm}^3/\text{sek}}{4\pi (\frac{1}{2} \text{ dm})^2} = \frac{0.1}{\pi} \frac{\text{dm}}{\text{sek}}$$

(1 dm = 10 cm)

$$\frac{dr}{dt} = \frac{1}{\pi} \text{ cm/sek} \quad \text{så} \quad \frac{dd}{dt} = 2 \frac{dr}{dt} = \underline{\underline{\frac{2}{\pi} \text{ cm/sek}}}$$

7

optimalisering



Let etter kritiske punkt til $f(x)$:

- $f'(x) = 0$
- $f'(x)$ ikke eksisterer
- endepunkt.

Ekstremalpunktene er blant de kritiske punktene.

Ekstremalverdisetningen garanterer eksistens av globale maks og min. punkter. for alle kontinuerlige funksjoner definert på en begrenset lukket intervall.



⑧

Eksempel

$$\text{Fortjeneste} = \left(\text{Antall enheter solgt} \right) \cdot \left(\text{fortjeneste per enhet} \right)$$

$$A = 1000 - 100 \cdot f$$

(Anta prod. kostnad = 0
så pris = fortjeneste)

Hva bør fortjeneste f være for at vi per enhet

skal få størst mulig total fortjeneste?

$$F(f) = (1000 - 100 \cdot f) \cdot f \quad [0, 10]$$

Fortjenesten $F(f)$ er størst mulig når f er et kritisk punkt.

$$F(0) = F(10) = 0$$

$$F'(f) = (1000 \cdot f - 100 \cdot f^2)' = 1000 - 200f$$

$$F'(f) = 0 \quad \text{når } \underline{f = 5}$$

$$F(5) = (1000 - 5 \cdot 100) \cdot 5 = \underline{\underline{2500}}$$

Fortjeneste per enhet $\underline{f = 5}$ gir størst total fortjeneste. Den er da 2500

9

Grenseverdier

$$\lim_{x \rightarrow a} f(x) = L$$

når x nærmer seg a , så vil $f(x)$ nærme seg L

f er kontinuerlig i a hvis $f(a) = \lim_{x \rightarrow a} f(x)$.

$$\lim_{x \rightarrow 1} \frac{x^2 - 1}{x^3 - 1} = \frac{2}{3} \quad (\text{type } \frac{0}{0})$$

L'Hopitals regel

$$\lim_{x \rightarrow 1} \frac{2x}{3x^2} = \frac{2}{3}$$

alternativt:

$$x^2 - 1 = (x+1)(x-1)$$

$$x^3 - 1 = (x^2 + x + 1)(x-1)$$

$$\lim_{x \rightarrow 1} \frac{(x+1)(x-1)}{(x^2 + x + 1)(x-1)} = \lim_{x \rightarrow 1} \frac{x+1}{x^2 + x + 1} = \frac{2}{3}$$

10

$$\lim_{x \rightarrow \infty} x e^{-x}$$

(type " $\infty \cdot 0$ ")

$$= \lim_{x \rightarrow \infty} x \cdot \frac{1}{e^x}$$

$$= \lim_{x \rightarrow \infty} \frac{x}{e^x} \quad \frac{\infty}{\infty}$$

(skrevet $e^{-x} = (e^x)^{-1} = \frac{1}{e^x}$)

L'Hopitals regel

$$\lim_{x \rightarrow \infty} \frac{1}{e^x} = 0$$

Tilsvarende $\lim_{x \rightarrow \infty} x^n \cdot e^{-x} = 0$ for alle n naturlig tall

Exponentiell funksjonen vokser raskere en ethvert polynom.

Finne grensen $\lim_{x \rightarrow 2} \frac{\int_2^x \sin(t) dt}{\sin(x) - \sin(2)}$ (type $\frac{0}{0}$)

11

L'Hopital

$$\frac{d}{dx} \int_2^x \sin(t) dt = \sin(x)$$

$$\frac{d}{dx} (\sin(x) - \sin(2)) = \cos(x)$$

så grensen er lik $\lim_{x \rightarrow 2} \frac{\sin(x)}{\cos(x)} = \frac{\sin(2)}{\cos(2)} = \underline{\underline{\tan(2)}}$

$$\frac{d}{dx} \int_0^{x^2} \cos(t^2) dt$$

$$F(u) = \int_0^u \cos(t^2) dt$$

$$\frac{d}{du} F(u) = \cos(u^2) \quad (\text{Fundamentalteoremet})$$

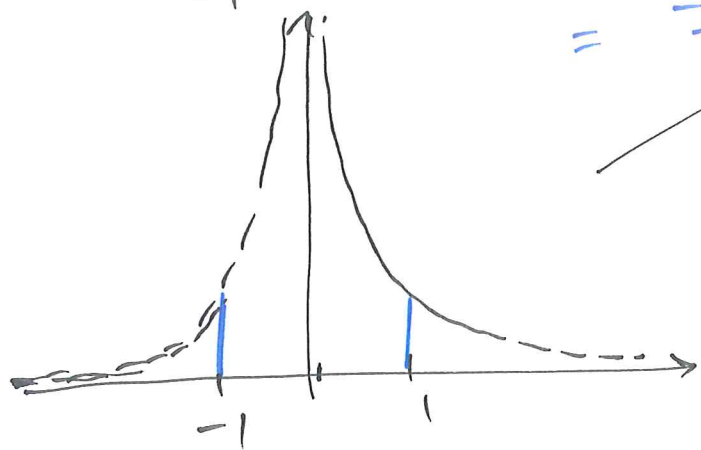
$$\begin{aligned} \frac{d}{dx} \int_0^{x^2} \cos(t^2) dt &= \frac{d}{dx} F(x^2) = F'(x^2) \cdot \frac{d}{dx}(x^2) \\ &= \cos((x^2)^2) \cdot 2x \\ &= \underline{\underline{2x \cos(x^4)}} \end{aligned}$$

12

$$\int_{-1}^1 \frac{1}{x^2} dx = -x^{-1} \Big|_{-1}^1$$

$$= \frac{-1}{1} - \left(\frac{-1}{-1}\right) = \underline{\underline{-2}}$$

~~Ugyldig.~~



$\frac{1}{x^2}$ har ikke en antiderivat på $[-1, 1]$.

$$\int_0^1 \frac{1}{x^2} dx = \lim_{\epsilon \rightarrow 0^+} \int_{\epsilon}^1 \frac{1}{x^2} dx = \lim_{\epsilon \rightarrow 0^+} -1 + \frac{1}{\epsilon}$$

$$= \infty$$

$$x^3 - x = x(x^2 - 1)$$

$$|x^3 - x| = \begin{cases} x - x^3 & 0 \leq x \leq 1 \\ x^3 - x & 1 \leq x \leq 2 \end{cases}$$

$$\int_0^2 |x^3 - x| dx = \int_0^1 (x - x^3) dx + \int_1^2 (x^3 - x) dx$$

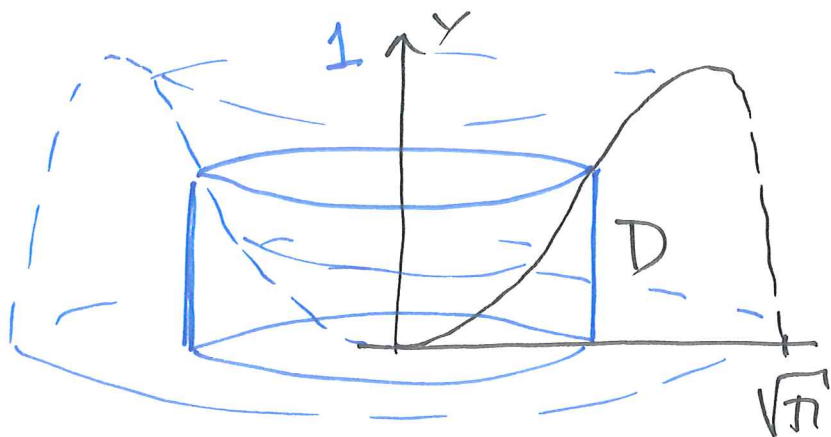
$$= \left. \frac{x^2}{2} - \frac{x^4}{4} \right|_0^1 + \left. \frac{x^4}{4} - \frac{x^2}{2} \right|_1^2$$

$$= \left(\frac{1}{2} - \frac{1}{4}\right) + \left(\frac{2^4}{4} - \frac{2^2}{2}\right) - \left(\frac{1}{4} - \frac{1}{2}\right)$$

$$= \frac{1}{2} + (4 - 2) = \underline{\underline{2.5}}$$

13) La $f(x) = \sin(x^2)$

La D være regionen avgrenset av x -aksen og grafen til $f(x)$ $0 \leq x \leq \sqrt{\pi}$.



(inneholdt
i en sylinder
med volum π^2)

Finn volumet til legemet som fremkommer ved å rotere D om y -aksen.

$$V = \int_0^{\sqrt{\pi}} 2\pi x \cdot \sin(x^2) dx$$

sylinder-
skal

substitusjon $u = x^2$
 $du = 2x dx$

$$V = \int_{u(0)}^{u(\sqrt{\pi})} \pi \sin(u) du$$
$$= \pi \int_0^{\pi} \sin(u) du = \pi \left(-\cos(u) \Big|_0^{\pi} \right)$$
$$= \pi (-\cos(\pi) + \cos(0))$$
$$= \underline{\underline{2\pi}}$$

14

$$y' = 4 e^{2x-y}$$

$$y(0) = 0$$

August 2014

separabel

$$y' = \underbrace{4 \cdot e^{2x}} \cdot \underbrace{e^{-y}}$$

$$\frac{y'}{e^{-y}} = 4e^{2x}$$

$$\frac{1}{e^{-y}} = \frac{1}{1/e^y} = e^y$$

$$\int \underbrace{e^y \cdot y'} dx = \int 4e^{2x} dx$$

$$\int e^y dy = 4 \int e^{2x} dx$$

$$e^y = 4 \frac{e^{2x}}{2} + c$$

$$= 2e^{2x} + c$$

$$y = \ln(2e^{2x} + c)$$

$$y(0) = 0 = \ln(2e^0 + c)$$

$$\ln(2+c)$$

$$\text{So } c = -1.$$

$$y(x) = \ln(2e^{2x} - 1)$$