

7. sep 2018

Linjer

linjestykker

\leftarrow ikke med
 \rightarrow med
 ende punkt

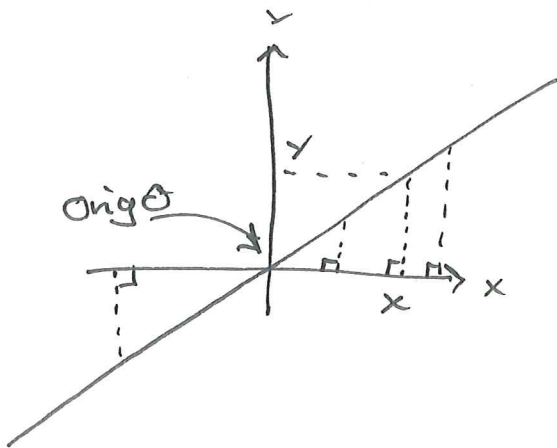
①

stråle

linje

underforstått
at den er
ubegrensa i
begge ender

Linjer gjennom origo



$$y = ax$$

$$\frac{y}{x} \text{ konstant}$$

$$x \neq 0$$

$$\frac{y}{x} = a \text{ (og } x=0)$$

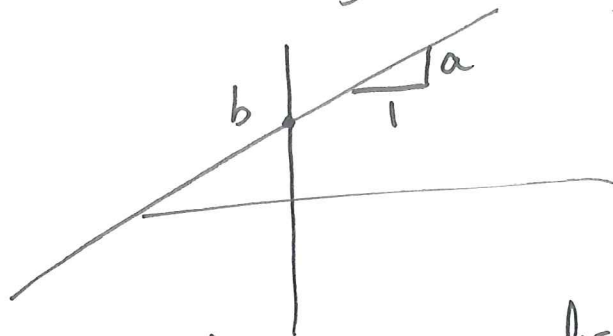
Løsningene til $y = ax$ er alle (x, y) slik at $y = ax$ (er sann). Samlingen av disse punktene er linjen.

Forskyver linjen med b langs y -aksen

② $y = ax + b$

a stigningsfallet

b skjæringspunktet med y -aksen



skjærer x -aksen i
 $x = -b/a$ (løser $ax + b = 0$)

Horisontale linjer

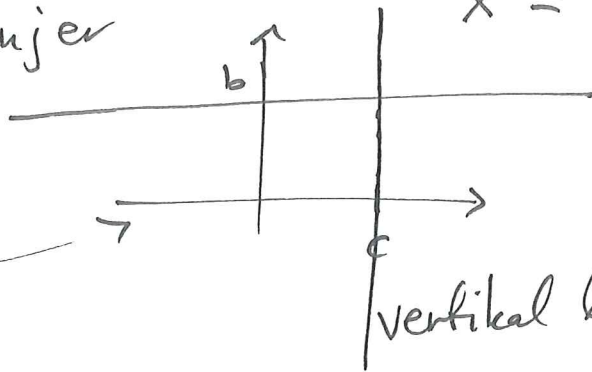
$a = 0$

$y = b$ (alle x)

Vertikale linjer

$x = c$ (alle y)

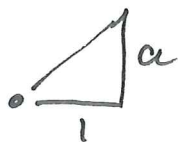
horisontal linje



vertikal linje

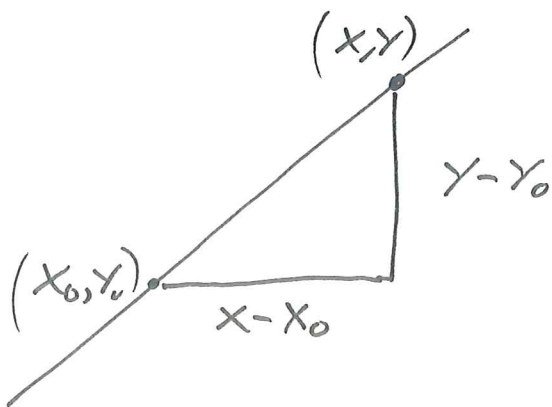
Ettpunktsformelen

Likning til linjen med stigningsfall a som går gjennom punktet (x_0, y_0)



er

$$y = a(x - x_0) + y_0$$



$$\frac{y - y_0}{x - x_0} = a \text{ og } (x_0, y_0)$$

$$y - y_0 = a(x - x_0)$$

$$y = a(x - x_0) + y_0$$

4) Gi en likning som beskriver linjene:

a) $a = 3$ $(x_0, y_0) = (2, 1)$
stigningsfall 3 og går gjennom $(2, 1)$

b) Stigningsfall $a = -4$
går gjennom $(3, 0)$ på x-aksen.

Vi setter inn i ettpunktsformelen og får

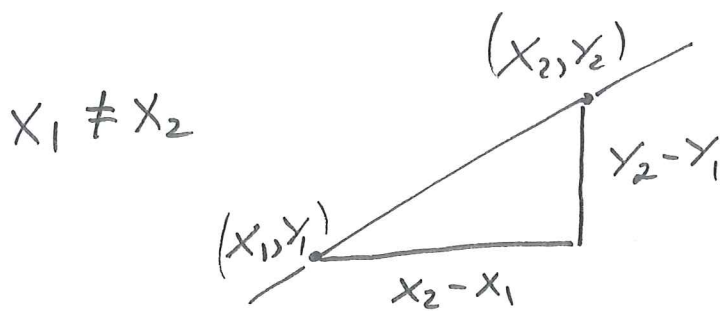
a) $y = 3(x - 2) + 1$
 $y = 3x - 5$

b) $y = -4(x - 3) + 0$
 $y = -4x + 12$

(Alternativt $y = -4x + b$ setter inn $(3, 0)$)
 $0 = -4 \cdot 3 + b$ så $b = 12$)

⑤ Likning som beskriver linjen gjennom to ulike punkt (x_1, y_1) og (x_2, y_2)

$x_1 = x_2$ vertikal linje beskrevet ved
 $x = x_1$ (og alle y)
($0 \cdot y + x = x_1$)



Så stignings-
tallet er

$$a = \frac{y_2 - y_1}{x_2 - x_1}$$

Vi kan nå benytte ett punktsformelen med en av punktene til å finne likningen.

Eksempel: $(2, 5)$ og $(0, 0)$

Stignings-tallet $a = \frac{0 - 5}{0 - 2} = \frac{5}{2}$

ett punktsformelen $y = \frac{5}{2}(x - 0) + 0$

$$y = \frac{5}{2}x$$

(Alternativt med $(2, 5)$ istedet for $(0, 0)$:

$$y = \frac{5}{2}(x - 2) + 5 = \frac{5}{2}x$$

(2,3) og (4,-1)

Stigningstall $a = \frac{3 - (-1)}{2 - 4} = \frac{3+1}{-2} = \underline{-2}$

⑥ $y = -2(x-2) + 3$

$y = -2x + 7$

oppgaver Finn en likning som beskriver linjene gjennom

1) (1,2) og (2,1)

2) (4,5) og (1,5)

3) (1,2) og (1,-2)

1) $a = \frac{1-2}{2-1} = \frac{-1}{1} = -1$

$y = -(x-1) + 2$

$y = -x + 3$

2) y -verdiene er like. Horisontal linje
 $a = 0$ $y = b$

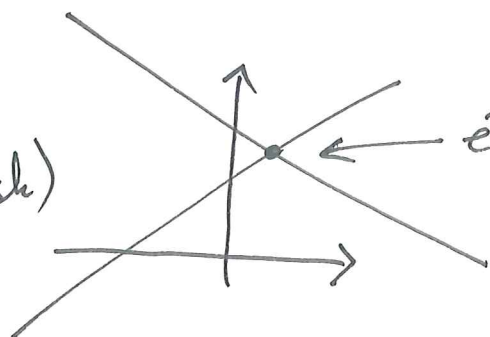
3) x -verdiene til punktene er like: Vertikal linje. Den er gitt ved $x = 1$

Likningsystem med to lineære
to ukjente x, y .

⑦

3 tilfeller

1.
(typisk)



en felles løsning.

els

$$y = 2x + 1$$
$$y = -5x + 4$$

\Rightarrow

$$2x + 1 = -5x + 4$$

\Downarrow

$$2x + 5x = 4 - 1$$

$$7x = 3$$

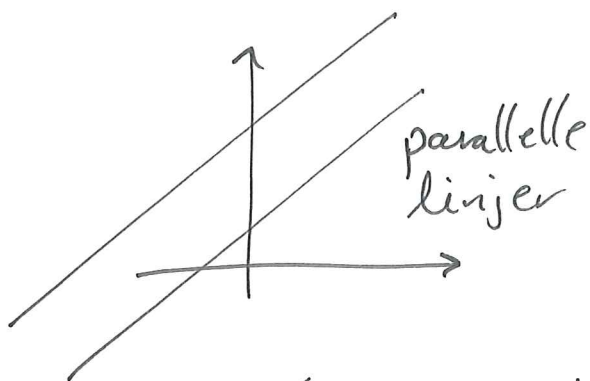
$$x = 3/7$$

y -koordinat, er da:

$$y = 2(3/7) + 1$$
$$= \frac{6}{7} + 1 = \frac{6+7}{7} = \frac{13}{7}$$

Løsningen er $(\frac{3}{7}, \frac{13}{7})$

2.



parallele
linjer

$$6x + 2y + 1 = 0$$

$$y + 3x + 1 = 0$$

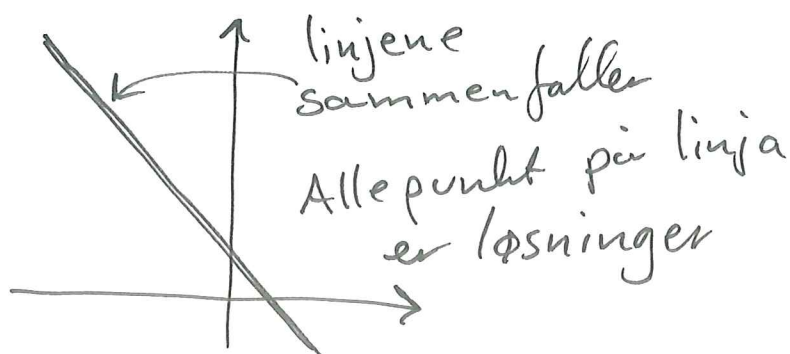
linjene møtes
aldrig.

Løsningen er tom
(har ingen løsning)

$$\Leftrightarrow y = -3x - \frac{1}{6}$$

$$y = -3x - 1$$

3



linjene
sammenfaller

Alle punkter på linja
er løsninger

$$36y + 6x = 12$$

$$24y + 4x = 8$$

⑧

Eksempel med dobbel ulikhed

$$2x - 1 \leq 5x + 3 < -2x + 17$$

$$\Leftrightarrow 2x - 1 \leq 5x + 3 \quad \text{og} \quad 5x + 3 < -2x + 17$$

$$-7 - 3 \leq 5x - 2x$$

$$5x + 2x < 17 - 3$$

$$-4 \leq 3x$$

$$7x < 14$$

$$-\frac{4}{3} \leq x$$

$$x < 2$$

Løsningene er alle x slik at

$$-\frac{4}{3} \leq x \quad \text{og} \quad x < 2$$

Dette kan uttrykkes med en dobbel ulikhed som

$$\underline{-\frac{4}{3} \leq x < 2}$$

Likningssystem

⑨ 3 likninger og 3 ukjente

$$\text{I} \quad x + y + z = 7$$

$$\text{II} \quad 2x - y + 3z = 12$$

$$\text{III} \quad y - z = -2$$

III gir oss $z = y + 2$

setter inn i I og II

$$\left. \begin{aligned} x + y + (y+2) &= 7 \\ 2x - y + 3(y+2) &= 12 \end{aligned} \right\} \begin{array}{l} \text{redusert til} \\ \text{2 ukjente} \\ \text{2 likninger} \end{array}$$

$$\begin{aligned} x + 2y &= 5 \\ 2x + 2y &= 12 - 6 = 6 \end{aligned} \Leftrightarrow \begin{aligned} x + 2y &= 5 \\ x + y &= 3 \end{aligned}$$

$$\Leftrightarrow \begin{aligned} x + 2y - (x + y) &= 5 - 3 \\ x + y &= 3 \end{aligned}$$

$$\Leftrightarrow \begin{aligned} y &= 2 \\ x + y &= 3 \end{aligned} \quad \text{så} \quad \begin{aligned} x &= \underline{1} \\ y &= \underline{2} \\ z &= y + 2 = \underline{4} \end{aligned}$$

Løsningen er $(x, y, z) = (1, 2, 4)$