

Eksamen 1. des 2009 i Ma 2000 Bygg.

OPPGAVE 1

- a) Skriv tallet $\frac{2+7i}{4-2i}$ på normalform og $(\frac{1}{2} - i\frac{\sqrt{3}}{2})^2$ på eksponensiell (polar) form.
b) Finn tallet $(0.5 + 1.2i)^{10}$ og skriv svaret på normal form.
c) Hvor mange løsninger har ligningen $z^6 + 64z^3 = 0$ når du tar med både reelle og komplekse løsninger? Finn alle løsningene av denne likningen.

OPPGAVE 2

- a) Vis at $y = x^2$ er en partikulærløsning av differensiallikningen

$$y'' - 2y' + 10y = 10x^2 - 4x + 2.$$

Finn den generelle løsningen.

- b) Finn den generelle løsningen av differensiallikningen $(D-1)^2(D+2)y = 0$.
Finn **formen** på en partikulærløsning til $(D-1)^2(D+2)y = xe^x + 3e^{-2x} + 5e^{2x}$.
(Det er ikke meningen du skal bestemme konstantene i partikulærløsningen).

OPPGAVE 3

En flate F er gitt som grafen til funksjonen $z = f(x, y) = x^2y - x^2 - y^2 - \frac{y^4}{2}$.

- a) Regn ut de partielt deriverte til f av første og andre orden.
b) Finn de kritiske punktene til f (det er tre slike punkter) og angi deres type.
c) Vertikalplanet $y = 2x$ skjærer flaten F i en kurve C . Finn stigningstallet til tangenten til C i punktet $(1, 2, -11)$.

OPPGAVE 4

Temperaturen i et punkt (x, y, z) er gitt ved funksjonen $f(x, y, z) = \ln(x^2 + y^2 + z^2)$.

- a) La $(a, b, c) = (4, 3, 5)$ og anta at a, b og c er målte verdier med en maksimal målefeil på 0.2 for a og på 0.1 for b og c , dvs. $a = 4.0 \pm 0.2$, $b = 3.0 \pm 0.1$ og $c = 5.0 \pm 0.1$.
Finn den usikkerheten dette gir for temperaturen i (a, b, c) .
b) Vi befinner oss i punktet $(x, y, z) = (4, 3, 5)$. I hvilken retning må vi bevege oss for å oppleve størst temperaturvekst? Hvor stor er temperaturveksten i denne retningen?

OPPGAVE 5

- a) Avgjør om rekkene i (i) og (ii) konvergerer eller divergerer.

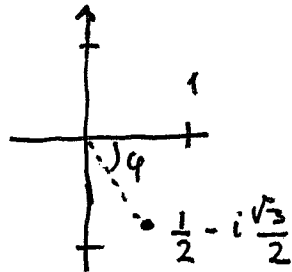
$$(i) \sum_{n=1}^{\infty} \tan\left(\frac{2n}{3+5n}\right) \quad \text{og} \quad (ii) \sum_{n=1}^{\infty} \frac{4^n}{(2n)!}$$

- b) Finn konvergensområdet til potensrekka $\sum_{n=1}^{\infty} (-1)^n \frac{(x-1)^n}{2n}$.

- c) Finn Maclaurinrekka til $f(x) = \frac{1}{(1-x)^2}$. Hva blir summen av rekka $\sum_{n=1}^{\infty} \frac{(n+1) \cdot 2^n}{3^n}$?

LØSNINGS FORSLAG

$$\begin{aligned} \text{Oppg. 1 a)} \quad \frac{2+7i}{4-2i} &= \frac{(2+7i)(4+2i)}{(4-2i)(4+2i)} = \frac{8+4i+28i+14i^2}{4^2-(2i)^2} \\ &= \frac{8-14+32i}{16+4} = \frac{-6+32i}{20} = \underline{\underline{\frac{-3+16i}{10}}} \end{aligned}$$

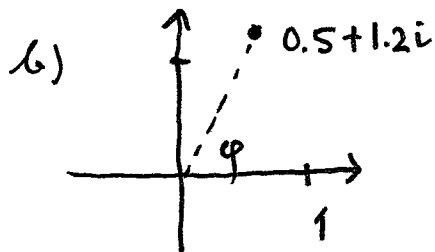


$$\left| \frac{1}{2} - i\frac{\sqrt{3}}{2} \right| = \sqrt{\frac{1}{4} + \frac{3}{4}} = 1$$

$$\varphi = -66^\circ \left(= -\frac{\pi}{3} \right)$$

$$\frac{1}{2} - i\frac{\sqrt{3}}{2} = e^{-i\frac{\pi}{3}}$$

$$\Rightarrow \left(\frac{1}{2} - i\frac{\sqrt{3}}{2} \right)^2 = \left(e^{-i\frac{\pi}{3}} \right)^2 = \underline{\underline{e^{-i\frac{2\pi}{3}}}}$$



$$|0.5 + i1.2| = \sqrt{0.5^2 + 1.2^2} = 1.3$$

$$\tan \varphi = \frac{1.2}{0.5} = 2.4$$

$$\varphi = \arctan 2.4 \approx 67.38^\circ$$

$$\Rightarrow (0.5 + i1.2)^{10} = (1.3 e^{i\varphi})^{10} = 1.3^{10} \cdot e^{i10\varphi} =$$

$$13.78585 (\cos 10\varphi + i \sin 10\varphi) \approx \underline{\underline{9.54 - 9.95i}}$$

c) Egentlig har lign. 6 røtter fordi det er en 6. grads lign. Da teller vi både reelle og komplekse løsm. og vi teller med multiplisitet. Da

$$z^6 + 64z^3 = z^3(z^3 + 64) = 0$$

$$\Leftrightarrow z^3 = 0 \text{ eller } z^3 + 64 = 0, \text{ så vil vi få}$$

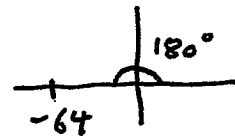
4 forskjellige løsninger, nemlig

$$\underline{\underline{z = 0}} \quad (\text{en rot med multiplisitet 3})$$

og de 3 løsm. av $z^3 = -64$. De er:

$$z^3 = -64 = 64 e^{i(\pi + 2k\pi)}$$

$$z = \sqrt[3]{64} e^{i \frac{\pi + 2k\pi}{3}}$$



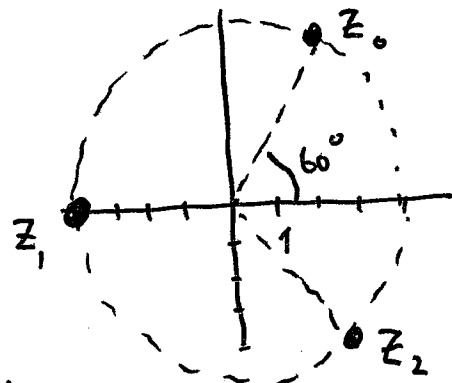
$$z = z_k = 4 e^{i(\frac{\pi}{3} + \frac{2\pi}{3}k)}, \quad k=0,1,2$$

$$z_0 = 4 e^{i\pi/3} = 4(\cos \frac{\pi}{3} + i \sin \frac{\pi}{3}) = 4(\frac{1}{2} + i\frac{\sqrt{3}}{2}) = \underline{\underline{2 + i2\sqrt{3}}}$$

$$z_1 = 4 e^{i(\frac{\pi}{3} + \frac{2\pi}{3})} = 4 e^{i\pi} = 4(\cos \pi + i \sin \pi) = \underline{\underline{-4}}$$

$$z_2 = 4 e^{i\frac{5\pi}{3}} = 4(\cos \frac{5\pi}{3} + i \sin \frac{5\pi}{3})$$

$$z_2 = \underline{\underline{2 - i2\sqrt{3}}}$$



Oppg 2

a) $y = x^2, y' = 2x, y'' = 2$

Setter inn i VS (venstresiden)

$$\Rightarrow y'' - 2y' + 10y = 2 - 2 \cdot 2x + 10x^2 = 2 - 4x + 10x^2$$

dos. er lik høyresiden. Altså er $y = x^2$ en løsning

Kar. lign. $t^2 - 2t + 10 = 0$

Røtter $t_2 = \frac{2 \pm \sqrt{4 - 4 \cdot 10}}{2} = \frac{2 \pm \sqrt{-36}}{2} = \frac{2 \pm i \cdot 6}{2}$

En kompleks løsn. : $= \underline{\underline{1 \pm 3i}}$

$$e^{(1+i3)x} = e^x \cdot e^{i3x} = e^x (\cos 3x + i \sin 3x)$$

Realdel og imagindel er løsn. Gen. løsn.

$$y_h = c_1 e^x \cos 3x + c_2 e^x \sin 3x \quad \text{av} \quad y'' - 2y' + 10y = 0$$

Da $y = y_p = x^2$ er en part. løsn, så er

$$y = y_h + y_p = \underline{\underline{e^x (c_1 \cos 3x + c_2 \sin 3x) + x^2}} \quad \text{gen. løsn. av den gitte ligningen}$$

$$b) (D-1)^2(D+2)y = 0$$

Kar. lign. $(r-1)^2(r+2) = 0$

Røtter $r_1 = 1$ (dobbelrot), $r_2 = -2$

Løsm. $e^{1 \cdot x}$, $x \cdot e^{1 \cdot x}$, e^{-2x}

Generell løsm. $y = \underline{\underline{c_1 e^x + c_2 x e^x + c_3 e^{-2x}}}$

Har $(D-1)^2(D+2)y = x e^x + 3 e^{-2x} + 5 e^{2x}$

Da $(D-1)^2(x e^x) = 0$, $(D+2)(3 e^{-2x}) = 0$ etc, så

anvender vi $(D-1)^2(D+2)(D-2)$ på begge sider. Far

$$(D-1)^4(D+2)^2(D-2)y = 0 \quad \text{med gen løsn.}$$

$$y = c_1 e^x + c_2 x e^x + \underline{c_3 x^2 e^x} + \underline{c_4 x^3 e^x} + c_5 e^{-2x} + \underline{c_6 x e^{-2x}} + \underline{c_7 e^{2x}}$$

De med strek under må derfor utgjøre formen på en part. løsn., dvs.

$$y_p = \underline{\underline{a x^2 e^x + b x^3 e^x + c x e^{-2x} + d e^{2x}}}, \quad a, b, c, d \text{ konst}$$

Oppg. 3 $z = x^2 y - x^2 - y^2 - \frac{1}{2} y^4$

a) $z_x = 2xy - 2x = \underline{\underline{2x(y-1)}}$, $z_y = \underline{\underline{x^2 - 2y - 2y^3}}$

$z_{xx} = \underline{\underline{2(y-1)}}$, $z_{yy} = \underline{\underline{-2 - 6y^2}}$, $z_{xy} = z_{yx} = \underline{\underline{2x}}$

b) Kritiske punkter: $z_x = 0$ og $z_y = 0$, dvs.

$$2x \cdot (y-1) = 0 \Leftrightarrow x=0 \text{ eller } y=1$$

$x=0$ innsett i $z_y = 0 \Rightarrow -2y - 2y^3 = 0 \Leftrightarrow 2y(1+y^2) = 0$
 $\Leftrightarrow y=0$

Far $(x, y) = \underline{\underline{(0, 0)}}$

$$\textcircled{y=1} \text{ innsatt i } z_y = 0 \Rightarrow x^2 - 2 - 2 = 0 \Leftrightarrow$$

$$x^2 = 4 \Leftrightarrow \underline{x = \pm 2} \quad \text{Får } (2, 1) \text{ og } (-2, 1)$$

$$\text{Kritiske punkter : } (x, y) = \underline{(0, 0)}, \underline{(2, 1)}, \underline{(-2, 1)}$$

$$\Delta = z_{xx}z_{yy} - z_{xy}^2 = 2(y-1) \cdot (-2-6y^2) - 4x^2$$

$$(0, 0) \text{ gir } \Delta = 2 \cdot (-1) \cdot (-2) - 0 = 4 > 0$$

Da $z_{xx} = 2 \cdot (0-1) = -2$, så er $(0, 0)$ et max.punkt

$(2, 1)$ gir $\Delta = 0 - 4 \cdot 2^2 = -16 < 0 \Rightarrow$ $(2, 1)$ et sadelpunkt

$(-2, 1)$ gir $\Delta = -16 < 0 \Rightarrow$ $(-2, 1)$ er et sadelpunkt for f

c) Sett vi $y=2x$ inn i $z=f(x, y)$, får vi

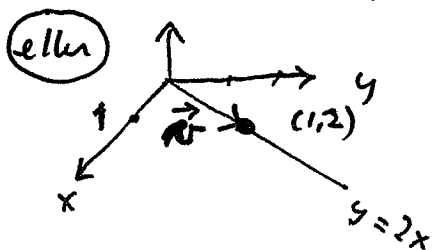
$$f(x, 2x) = x^2 \cdot 2x - x^2 - (2x)^2 - \frac{(2x)^4}{2} = 2x^3 - x^2 - 4x^2 - 8x^4$$

Kaller denne funksjonen $g(x)$, dvs $g(x) = 2x^3 - 5x^2 - 8x^4$

Skal finne $g'(x)$ når $x=1$. (dette er stign.tallet det spørres etter) hvis vi deler med lengden av $\vec{r}'(x) = [1, 2]$

$$g'(x) = 6x^2 - 10x - 32x^3 \Rightarrow g'(1) = -36 \Rightarrow$$

Stigningen til tangenten er $-\frac{36}{\sqrt{5}}$



La $\vec{v} = [1, 2]$ vektoren på

fig. Stign.tallet det spørres

etter er også lik den

retningsderiverte til f i $(1, 2)$

i retningen \vec{v} . Den er

$$D_{\vec{e}}(f) = \nabla f(1, 2) \cdot \frac{\vec{v}}{|\vec{v}|} = [2x(y-1), x^2-2y-2y^3] \cdot [1, 2] / \sqrt{1+4}$$

$(x, y) = (1, 2)$

$$= [2, -19] \cdot \frac{[1, 2]}{\sqrt{5}} = \frac{2-38}{\sqrt{5}} = \underline{\underline{-\frac{36}{\sqrt{5}}}}$$

Oppg. 4 $w = f(x, y, z) = \ln(x^2 + y^2 + z^2)$

a) $\frac{\partial f}{\partial x} = \frac{1}{x^2 + y^2 + z^2} \cdot 2x$, $\frac{\partial f}{\partial y} = \frac{1}{x^2 + y^2 + z^2} \cdot 2y$

$\frac{\partial f}{\partial z} = \frac{1}{x^2 + y^2 + z^2} \cdot 2z = \frac{2z}{x^2 + y^2 + z^2}$

I punktet $(4, 3, 5)$ så er det totale differensialt lik

$dw = \frac{\partial f}{\partial x} dx + \frac{\partial f}{\partial y} dy + \frac{\partial f}{\partial z} dz = \frac{2 \cdot 4}{4^2 + 3^2 + 5^2} dx + \frac{2 \cdot 3}{50} dy + \frac{2 \cdot 5}{50} dz$

Tar vi tellervriden av hvert ledd og lar $dx = 0.2$

og $dy = dz = 0.1$, så finner vi usikkerheten i $d = f(4, 3, 5)$.

Får $\left| \frac{8}{50} dx \right| + \left| \frac{6}{50} dy \right| + \left| \frac{10}{50} dz \right| = 0.16 \cdot 0.2 + 0.12 \cdot 0.1 + 0.2 \cdot 0.1 = \underline{\underline{0.064}}$

b) Vi får størst temperaturvekst i gradientens retning, dvs.

i retningen $\nabla f(4, 3, 5) = \left[\frac{\partial f}{\partial x}, \frac{\partial f}{\partial y}, \frac{\partial f}{\partial z} \right]_{(x,y,z)=(4,3,5)} = \underline{\underline{\left[\frac{4}{25}, \frac{3}{25}, \frac{5}{25} \right]}}$

dvs i retningen $\underline{\underline{[4, 3, 5]}}$

Temperaturveksten i denne retningen er:

$\nabla f(4, 3, 5) \cdot \frac{\nabla f(4, 3, 5)}{|\nabla f(4, 3, 5)|} = |\nabla f(4, 3, 5)| = \sqrt{\frac{4^2 + 3^2 + 5^2}{25^2}} = \underline{\underline{\frac{\sqrt{2}}{5}}}$

Oppg. 5 a)

i) Vet at $\frac{2n}{3+5n} = \frac{2}{\frac{3}{n} + 5} \rightarrow \frac{2}{5}$ når $n \rightarrow \infty$

$\Rightarrow a_n = \tan\left(\frac{2n}{3+5n}\right) \rightarrow \tan \frac{2}{5} \neq 0$ når $n \rightarrow \infty$

Rekka divergerer derfor etter divergenstesten.

(ii) $\sum \frac{4^n}{(2n)!}$. Sett $a_n = \frac{4^n}{(2n)!}$ $\Rightarrow a_{n+1} = \frac{4^{n+1}}{(2(n+1))!}$

$\frac{a_{n+1}}{a_n} = \frac{4^{n+1}}{(2n+2)!} \cdot \frac{(2n)!}{4^n} = 4 \cdot \frac{1 \cdot 2 \cdots (2n)}{1 \cdot 2 \cdots (2n)(2n+1)(2n+2)}$

$= \frac{4}{(2n+1)(2n+2)} \rightarrow 0$ når $n \rightarrow \infty$

Rekka konvergerer etter forholdstesten

$$b) \sum (-1)^n \frac{(x-1)^n}{2^n}. \text{ La } u_n = (-1)^n \frac{(x-1)^n}{2^n}$$

$$\left| \frac{u_{n+1}}{u_n} \right| = \left| \frac{(x-1)^{n+1}}{2^{n+1}} \cdot \frac{2^n}{(x-1)^n} \right| = \frac{n}{n+1} \cdot |x-1| \xrightarrow{\text{m\u00e5r } n \rightarrow \infty} |x-1|$$

Rekka konv. for

$$|x-1| < 1 \Leftrightarrow -1 < x-1 < 1 \Leftrightarrow \underline{0 < x < 2}$$

og den divergerer for $|x-1| > 1$ etter forholdstesten

$$\textcircled{x=2} \sum_{n=1}^{\infty} (-1)^n \cdot \frac{1}{2^n}. \text{ Denne konvergerer etter Leibnitz}$$

$$\textcircled{x=0} \sum_{n=1}^{\infty} (-1)^n \cdot \frac{(-1)^n}{2^n} = \sum_{n=1}^{\infty} (-1)^{2n} \cdot \frac{1}{2^n} = \frac{1}{2} \cdot \sum_{n=1}^{\infty} \frac{1}{2^{n-1}}$$

Denne rekka ~~konvergerer~~^{di} konvergerer fordi p -rekke med $p=1$ (dvs. den harmoniske rekke) divergerer

\Rightarrow Konvergenksomr\u00e5det er $0 < x \leq 2$

c) Vet at

$$\frac{1}{1-x} = 1 + x + x^2 + \dots + x^n + \dots = \sum_{n=0}^{\infty} x^n$$

fordi rekka til h\u00f8yre er geometrisk.

Deriverer ledd for ledd og f\u00e5r

$$\frac{-1 \cdot (-1)}{(1-x)^2} = \frac{1}{(1-x)^2} = 1 + 2x + 3x^2 + \dots + mx^{m-1} + (m+1)x^m + \dots \\ = \sum_{n=0}^{\infty} (n+1)x^n, \quad |x| < 1$$

Dette er Mac. rekke

fordi det bare er \u00e9n rekkeutvikling av $\frac{1}{(1-x)^2}$ p\u00e5 formen

$\sum a_n x^n$. Bruker $x = \frac{2}{3}$ og f\u00e5r

$$1 + \sum_{n=1}^{\infty} (n+1) \left(\frac{2}{3}\right)^n = \frac{1}{\left(1 - \frac{2}{3}\right)^2} = 9 \Rightarrow \sum_{n=1}^{\infty} (n+1) \left(\frac{2}{3}\right)^n = \underline{\underline{8}}$$

ANM. K\u00e5nne l\u00f8st oppgaven ved \u00e5 bruke den binomiske rekke, dvs. Mac. rekke til $(1+x)^p$ med $p = -2$.